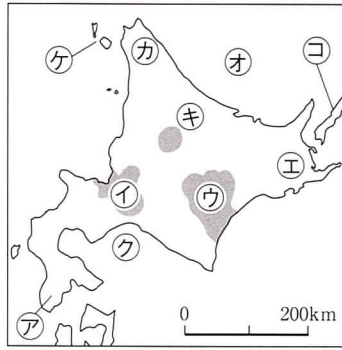


1 右の地図を見て、つぎの問いに答えよ。

(1) つぎの文と関係の深い地域を地図中から選び、記号で答えよ。

- ① この海の沿岸では、春先に流氷が見られる。
- ② 内陸性気候で、夏と冬の気温の差が大きい。
- ③ 春から夏にかけて濃霧が生じやすく、冷害の原因となる。
- ④ 江戸時代から松前藩が置かれ、アイヌの人々を苦しめた。
- ⑤ 歯舞諸島・色丹島・国後島・択捉島の島々の返還をロシアに要求している。



(2) つぎの各文の()にあてはまる語句を答えよ。

- ア 渡島半島には、北海道の玄関口ともいわれ、漁港としても有名な(a)市があり、ここと青森市との間には連絡船が通っていたが、(b)半島とを結ぶ青函トンネルが1988年に完成したので、廃止された。
- イ ④の平野には、北海道庁のおかれている(c)市がある。明治の初め、ここに北海道(d)がおかれ、本格的な開発が進められた。北海道の警備と開発をかねた(e)村がつくられたり、アメリカからケプロンや(f)を招いて、アメリカ式大農法を学んだ。
- ウ ⑤の(g)台地は、火山灰のつもってできた台地で、土地がやせ、冷涼で畑作にも向かないため、おもに牧草を育てて牛を飼う(h)が行われている。

1 【各4 — 52点】

(1)	①	
	②	
	③	
	④	
	⑤	
(2)	a	
	b	
	c	
	d	
	e	
	f	
	g	
	h	

2 日本の人々の暮らしについてのべたつぎの各文の()にあてはまる語句を答えよ。

- (1) 日本の人口は都市にかたよる傾向があり、都市部では(①)、農村や山間部などでは(②)が問題となっている。特に、②地域は、人口の高齢化とともに、深刻な問題を抱えている。
- (2) 日本は火山帯に属し、(③)や(④)の噴火による被害も多い。近年でも北海道南西沖の奥尻島や兵庫県南部で大きな③による被害があり、伊豆大島や長崎県の雲仙岳(普賢岳)など、活動の活発な④も多い。

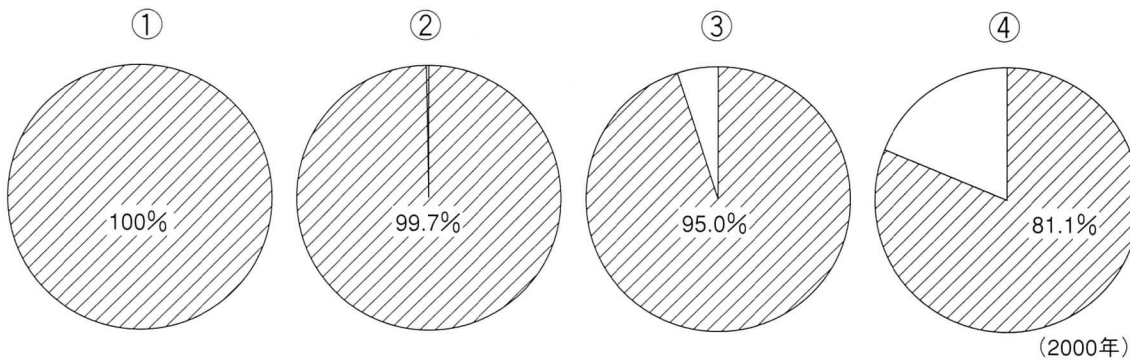
2 【各3 — 12点】

①	
②	
③	
④	

3 下のグラフは、わが国の主要物資の輸入依存度を示している。つぎのア～エの物資は、下のどのグラフにあてはまるか。番号で答えよ。

ア 原油 イ 木材 ウ 綿花 エ 大豆

輸入 自給 (「日本国勢図会2003/04年版」などによる)

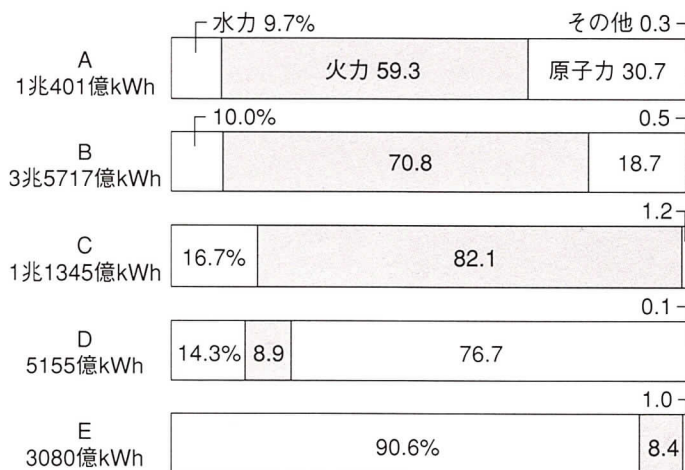


3 【各4 — 16点】

ア	
イ	
ウ	
エ	

4 右のグラフは日本と世界のおもな国の電力構成を示している。それぞれの国を示しているか。あてはまるものをつぎから選び、記号で答えよ。

- ア アメリカ
- イ フランス
- ウ ブラジル
- エ 中国
- オ 日本



kWhは、発電量の単位
(エネルギー統計年鑑1997年版などによる)

4 【各4 — 20点】

A	
B	
C	
D	
E	